




# 2.kārta

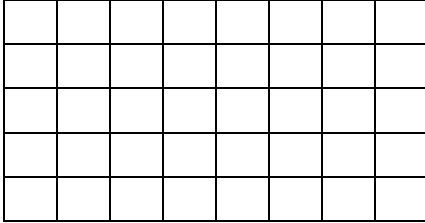


Sadali taisnstūri šādās



vienādās daļās.

1.



2.

10 olas jāizcep uz trīsvietīgas pannas, katru pusi cepot 2 minūtes. Cik īsākajā laikā to var izdarīt? Paskaidro un pamato!


3.

Dota 96 cm gara taisnstūrveida papīra sloksne ar nezināmu platumu. Kā bez mērinstrumentiem var nogriezt 45 cm garu gabalu?

4.

Atmini manu mīkliņu?


	○	□	△	△
■	D	C	R	I
■	E	V	K	Ļ
■	A	P	T	R
■	Ē	G	M	Š



5.

Uz riņķa līnijas ir atzīmēti 6 punkti. Savienojot piecus punktus, var uzzīmēt izliektu daudzstūri.

a) Cik dažādu piecstūru te var uzzīmēt? b) Cik dažādu četrstūru te var uzzīmēt?



Atbildes līdz 20.12.2016.

Sk. Dace

